

Нацртај да буде:

	шире и краће	уже и дуже
		
		

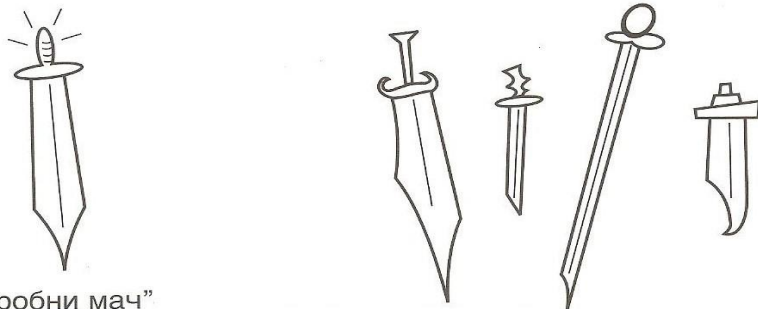
Нацртај да буде:

	шире и краће	уже и дуже
		
		

	ниже а шире	уже а више
		
		

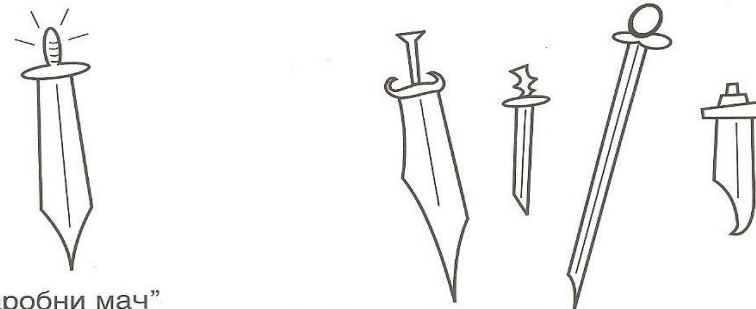
	ниже а шире	уже а више
		
		

Спој линијом „чаробни мач” са оним који је ужи, а дужи.



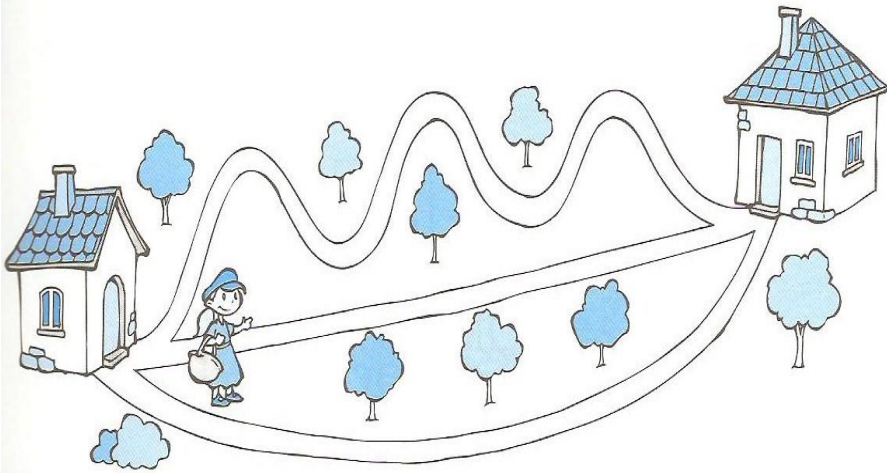
„чаробни мач”

Спој линијом „чаробни мач” са оним који је ужи, а дужи.

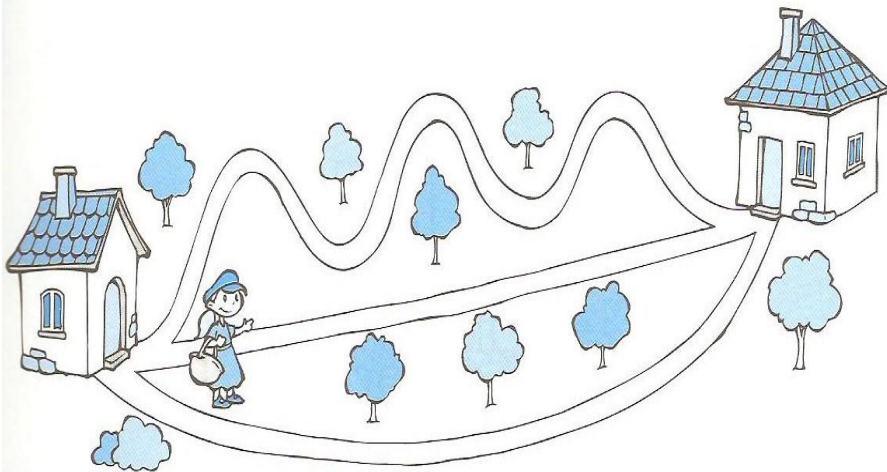


„чаробни мач”

Дата су три пута од Црвенкапине до бакине куће. Црвенкапа није ишла ни најдужим, ни најкраћим путем. Обој пут којим је Црвенкапа ишла.



Дата су три пута од Црвенкапине до бакине куће. Црвенкапа није ишла ни најдужим, ни најкраћим путем. Обој пут којим је Црвенкапа ишла.



Ана је нижа од Маје, али је виша од Еме. Упиши испод слике сваке девојчице њено име.



--	--	--



--	--	--	--



--	--	--

Ана је нижа од Маје, али је виша од Еме. Упиши испод слике сваке девојчице њено име.



--	--	--



--	--	--	--



--	--	--

