




1. Прати смер окретања Земље и рачунај:



2. Израчунај вредност израза. У табели заокружи поља у којима се налази број који си добио. Добићеш назив једног небеског тела.

- 36 : 9 = _____
- 54 : 9 = _____
- 45 : 9 = _____
- 81 : 9 = _____
- 63 : 9 = _____

4	1	3	8	3
М	Н	Ј	О	Љ
3	6	2	10	1
Б	Е	У	П	Р
8	3	5	8	2
И	В	С	А	Н
10	1	3	9	8
Б	Д	Ш	Е	Л
2	8	1	10	7
Е	Ј	З	Ћ	Ц

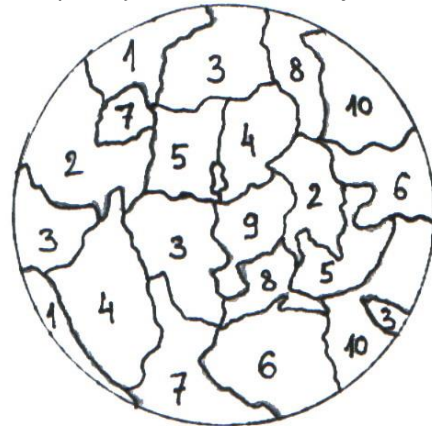
ucibibapl.wordpress.com

3. Планета Сатурн је направила 36 кругова око Сунца. За исто време планета Плутон је направила 9 пута мање кругова. Колико кругова је направила планета Плутон?

Одговор: _____

4. Израчунај вредности израза. Бројеве које си добио као решења пронађи на слици и обој плаво. Остала поља обој браон и зелено.

- 36 : 9 =
- 27 : 9 =
- 72 : 9 =
- 45 : 9 =
- 63 : 9 =



Коју планету си добио? _____

5. У космосу је настао хаос! Планете су измениле свој распоред. Доведи их у ред тако што ћеш број са сваке планете поделити са 9. Резултат који добијеш биће редни број планете.



Уран Јупитер Меркур Сатурн Плутон Венера Марс Нептун Земља

_____ : _____ = _____

Сада напиши прави распоред планета!
